

- 4 Прочитайте приведённый ниже текст, в котором пропущен ряд слов (словосочетаний). Выберите из предлагаемого списка слова (словосочетания), которые необходимо вставить на места пропусков.

Тёплые океанические течения

Поверхностные течения – один из видов динамики вод Мирового океана. По температуре воды выделяют тёплые и холодные течения. В тропических широтах тёплые течения омывают _____ (А) побережья материков. Направление движений большинства тёплых течений от _____ (Б). Тёплые течения _____ (В) образованию облаков и выпадению атмосферных осадков.

Выбирайте последовательно одно слово (словосочетание) за другим, мысленно вставляя на места пропусков слова (словосочетания) из списка в нужной форме. Обратите внимание на то, что слов (словосочетаний) в списке больше, чем Вам потребуется для заполнения пропусков. Каждое слово (словосочетание) может быть использовано только один раз.

Список слов (словосочетаний):

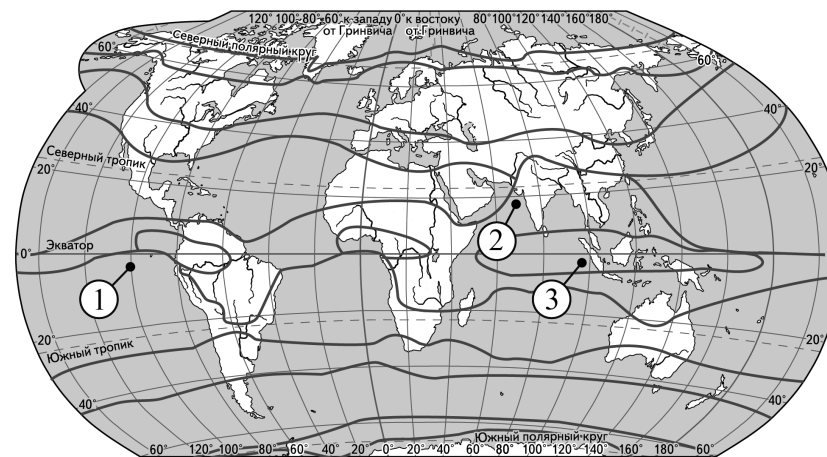
- 1) экватора к полюсам
- 2) восточный
- 3) полюсов к экватору
- 4) препятствовать
- 5) способствовать
- 6) западный

В данной ниже таблице приведены буквы, обозначающие пропущенные слова (словосочетания). Запишите в таблицу под каждой буквой номер выбранного Вами слова (словосочетания).

А	Б	В

Ответ:

- 5 Установите соответствие между точкой, обозначенной на карте мира, и климатическим поясом, в котором она расположена: к каждому элементу первого столбца подберите соответствующий элемент из второго столбца.



— границы климатических поясов

ТОЧКА

- А) 1
Б) 2
В) 3

КЛИМАТИЧЕСКИЙ ПОЯС

- 1) субтропический
2) субэкваториальный
3) тропический
4) экваториальный

Запишите в таблицу выбранные цифры под соответствующими буквами.

А	Б	В

Ответ:

6 Расположите перечисленные параллели в порядке увеличения продолжительности светового дня 16 июня, начиная с параллели с наименьшей продолжительностью дня.

- 1) 0° ш.
- 2) 10° ю ш.
- 3) 60° ю.ш.

Запишите в таблицу получившуюся последовательность цифр.

Ответ:

--	--	--

7 Расположите перечисленные реки с запада на восток в том порядке, в котором они располагаются на карте Евразии, начиная с самой западной.

- 1) Лена
- 2) Днепр
- 3) Енисей

Запишите в таблицу получившуюся последовательность цифр.

Ответ:

--	--	--

8 Расположите перечисленные страны в порядке возрастания в них показателя ИЧР (индекса человеческого развития), начиная со страны с наименьшим значением этого показателя.

- 1) Норвегия
- 2) ДР Конго
- 3) Венесуэла

Запишите в таблицу получившуюся последовательность цифр.

Ответ:

--	--	--

9 Какие три из перечисленных стран имеют наибольшую среднюю плотность населения? Запишите в таблицу **цифры**, под которыми указаны эти страны.

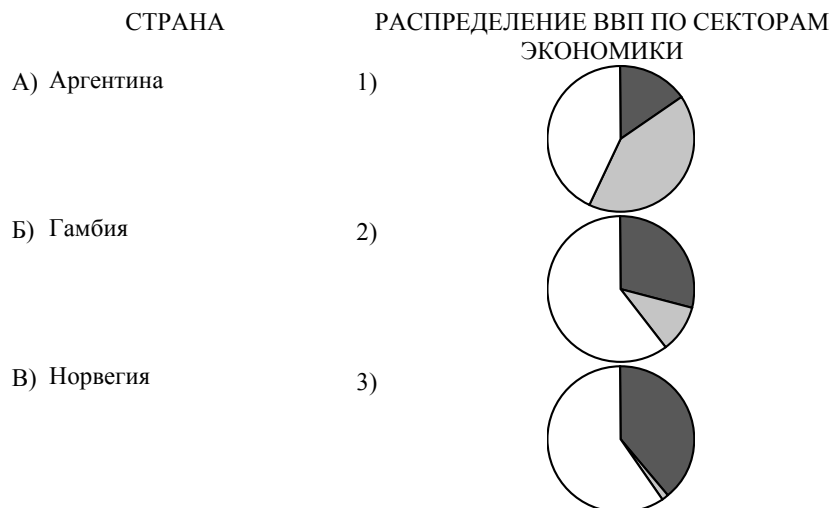
- 1) Австралия
- 2) Япония
- 3) Чехия
- 4) Монголия
- 5) Италия
- 6) Алжир

Ответ:

--	--	--

- 10** Установите соответствие между страной и диаграммой, отражающей распределение её ВВП по секторам экономики: к каждой позиции, данной в первом столбце, подберите соответствующую позицию из второго столбца.

■ – промышленность ■ – сельское хозяйство □ – сфера услуг



Запишите в таблицу выбранные цифры под соответствующими буквами.

Ответ:	А	Б	В

- 11** Прочитайте приведённый ниже текст, в котором пропущен ряд слов. Выберите из предлагаемого списка слова, которые необходимо вставить на места пропусков.

Географические особенности Канады

Канада – экономически развитое государство. Экономика Канады многоотраслевая, базируется на богатых природных ресурсах. Страна имеет огромную территорию, которая заселена очень неравномерно. Основная часть населения, а также промышленность и сельское хозяйство в основном сосредоточены в _____ (А) части страны. Канада является мировым лидером в производстве отдельных видов аграрной продукции. Так, Канада входит в первую десятку стран мира по валовому производству _____ (Б). Доля отраслей добывающей промышленности в структуре хозяйства Канады _____ (В), чем в большинстве других экономически развитых стран.

Выбирайте последовательно одно слово за другим, мысленно вставляя на места пропусков слова из списка в нужной форме. Обратите внимание на то, что слов в списке больше, чем Вам потребуется для заполнения пропусков. Каждое слово может быть использовано только один раз.

Список слов:

- 1) хлопчатник
- 2) ниже
- 3) западная
- 4) выше
- 5) южная
- 6) пшеница

В данной ниже таблице приведены буквы, обозначающие пропущенные слова. Запишите в таблицу под каждой буквой номер выбранного Вами слова.

Ответ:	А	Б	В

- 12** Какие три из перечисленных городов России имеют наибольшую численность населения? Запишите в таблицу цифры, под которыми указаны эти города.

- 1) Хабаровск
- 2) Нижний Новгород
- 3) Воронеж
- 4) Чита
- 5) Архангельск
- 6) Самара

Ответ:

--	--	--

- 13** Какие три из перечисленных городов России являются центрами цветной металлургии? Запишите в таблицу цифры, под которыми указаны эти города.

- 1) Оренбург
- 2) Красноярск
- 3) Братск
- 4) Ставрополь
- 5) Норильск
- 6) Липецк

Ответ:

--	--	--

- 14** Прочитайте приведённый ниже текст, в котором пропущен ряд слов (словосочетание). Выберите из предлагаемого списка слова (словосочетание), которые необходимо вставить на места пропусков.

Природно-хозяйственная зона степей России

Современные ландшафты степей сильно изменены человеком, они издавна используются для ведения сельского хозяйства благодаря плодородным _____ (А) почвам. В составе сельскохозяйственных угодий преобладают _____ (Б). Естественная растительность сохранилась в заповедниках; в её составе преобладают злаки, типичным представителем которых является _____ (В).

С высокой степенью хозяйственного освоения зоны связаны её экологические проблемы, главной из которых является снижение плодородия почв вследствие неправильных севооборотов, использования тяжёлой сельскохозяйственной техники, развития водной и ветровой эрозии.

Выбирайте последовательно одно слово за другим, мысленно вставляя на места пропусков слова (словосочетание) из списка в нужной форме. Обратите внимание на то, что слов (словосочетания) в списке больше, чем Вам потребуется для заполнения пропусков. Каждое слово (словосочетание) может быть использовано только один раз.

Список слов (словосочетание):

- 1) пахотные земли
- 2) ковыль
- 3) чернозёмные
- 4) сенокосы
- 5) подзолистые
- 6) ягель

В данной ниже таблице приведены буквы, обозначающие пропущенные слова (словосочетание). Запишите в таблицу под каждой буквой номер выбранного Вами слова (словосочетания).

Ответ:

А	Б	В

15 В каких из высказываний содержится информация о естественном движении населения? Запишите цифры, под которыми они указаны.

- 1) Превышение числа людей, прибывших в Россию на постоянное место жительства, над числом выбывших из неё обеспечило рост численности населения страны в 2009–2012 гг.
- 2) Причиной сокращения численности населения России в 1995–2008 гг. было превышение числа умерших над числом родившихся.
- 3) В начале 2012 г. в районах Крайнего Севера в России проживало 10 124,5 тыс. человек, или 7,1% населения страны.
- 4) В начале 1990-х гг. жители восточноевропейских стран уезжали в Западную Европу с целью заработать больше и жить лучше.
- 5) В XXI в. темпы роста численности населения мира стабилизировались, хотя они по-прежнему остаются довольно высокими – 1,2% в год.

Ответ: _____.

16 На основе анализа данных приведённой ниже таблицы укажите регионы, в которых в период с 2016 по 2018 г. ежегодно происходило увеличение объёмов сельскохозяйственного производства. Запишите цифры, под которыми указаны эти регионы.

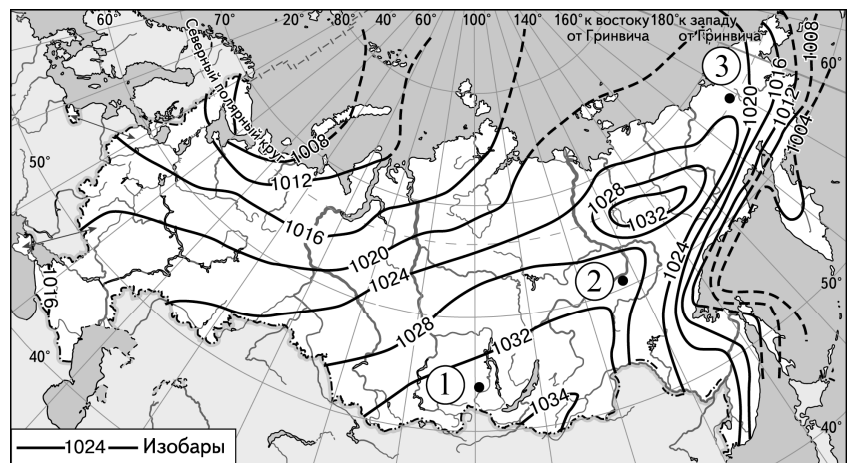
Динамика объёмов сельскохозяйственного производства
(в % к предыдущему году)

Регион	2016 г.	2017 г.	2018 г.
1) Брянская область	108,9	106,0	103,1
2) Псковская область	119,8	112,0	110,9
3) Республика Северная Осетия – Алания	90,9	97,1	108,8
4) Республика Карелия	89,9	91,0	102,9

Ответ: _____.

17 С помощью карты сравните среднее атмосферное давление на уровне моря в январе в точках, обозначенных на карте цифрами 1, 2 и 3. Расположите эти точки в порядке повышения среднего атмосферного давления.

Среднее атмосферное давление на уровне моря в январе (в гПа)



Запишите в таблицу получившуюся последовательность цифр.

Ответ:

--	--	--

- 18** Установите соответствие между страной и её столицей: к каждому элементу первого столбца подберите соответствующий элемент из второго столбца.

СТРАНА	СТОЛИЦА
А) Австралия	1) Канберра
Б) Таиланд	2) Пхеньян
В) Аргентина	3) Буэнос-Айрес
	4) Бангкок

Запишите в таблицу выбранные цифры под соответствующими буквами.

Ответ:

А	Б	В

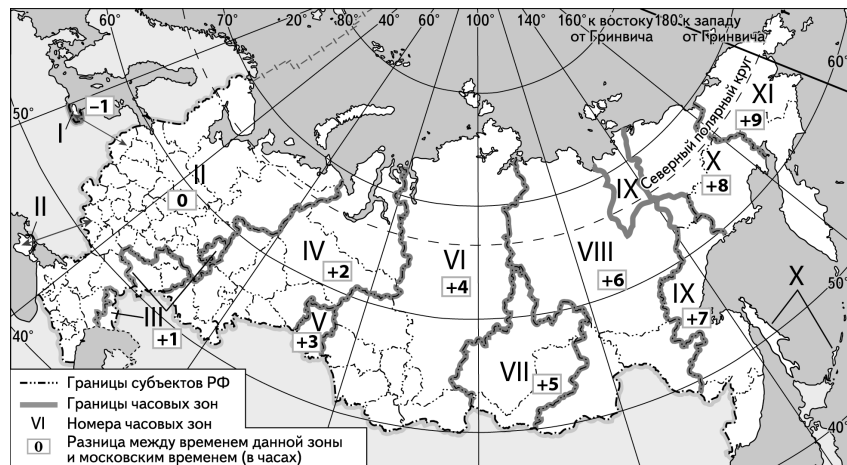
- 19** Какие три из перечисленных стран относятся к числу крупных производителей и экспортёров риса? Запишите в таблицу цифры, под которыми указаны эти страны.

- 1) Вьетнам
- 2) Канада
- 3) Индия
- 4) Германия
- 5) Таиланд
- 6) Россия

Ответ:

--	--	--

- 20** В соответствии с Законом о возврате к «зимнему» времени с 26 октября 2014 г. на территории страны установлено 11 часовых зон (см. карту). Исходным при исчислении местного времени часовых зон служит московское время – время II часовой зоны.



Самолёт вылетел из Минеральных Вод (II часовая зона) в Норильск (VI часовая зона) в 13 часов по местному времени Минеральных Вод. Расчётное время полёта составляет 6 часов. Сколько времени будет в Норильске, когда самолёт приземлится? Ответ запишите в виде числа.

Ответ: _____ ч.

- 21** Используя данные диаграммы, определите величину миграционного прироста населения Псковской области в 2012 г. Ответ запишите в виде числа (по образцу, указанному в инструкции по выполнению работы).

Распределение числа мигрантов по основным потокам передвижения, 2012 г. (тыс. человек)



Ответ: _____ тыс. человек.

- 22** Используя данные таблицы, сравните обеспеченность стран пахотными землями. Расположите страны в порядке возрастания в них показателя ресурсообеспеченности, начиная со страны с наименьшим значением этого показателя.

Страна	Площадь пашни, млн га (2011 г.)	Численность населения, млн человек (2011 г.)
1) Франция	18,4	63,3
2) Нидерланды	1,0	16,7
3) Венгрия	11,9	10,0

Запишите в таблицу получившуюся последовательность цифр.

Ответ:

--	--	--

- 23** Расположите перечисленные периоды геологической истории Земли в хронологическом порядке, начиная с самого раннего.

- 1) силурийский
- 2) палеогеновый
- 3) ордовикский

Запишите в таблицу получившуюся последовательность цифр.

Ответ:

--	--	--

- 24** Определите страну по её краткому описанию.

Это одна из крупных по площади территории стран зарубежной Европы. По форме правления – республика. К числу наиболее развитых отраслей промышленности относятся машиностроение (автомобилестроение, авиакосмическая и электротехническая промышленность), металлургия, химическая, и атомная энергетика (большая часть электроэнергии в стране производится на АЭС). В сельском хозяйстве развито производство зерна, овощеводство, садоводство, виноградарство и животноводство. Эта страна – крупнейший в зарубежной Европе производитель пшеницы и сахарной свёклы. В международном географическом разделении труда также специализируется на производстве парфюмерно-косметических средств, модной одежды и аэрокосмической техники.

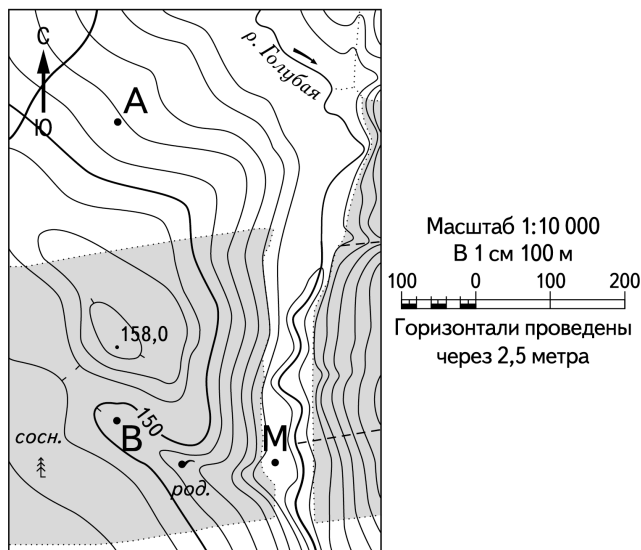
Ответ: _____.

- 25** Определите регион России по его краткому описанию.

Эта республика является одной из крупных по площади территории, расположена в Европейской части страны. Не имеет выхода к морю. Большая часть её территории находится в зоне тайги. Разведаны запасы угля, нефти, природного газа, руд чёрных и цветных металлов. Основные отрасли промышленности: топливная, лесная, деревообрабатывающая и целлюлозно-бумажная.

Ответ: Республика _____.

Задания 26–28 выполняются с использованием приведённого ниже фрагмента топографической карты.



- 26** Определите по карте расстояние на местности по прямой от точки В до точки М. Полученный результат округлите до десятков метров. Ответ запишите в виде числа.

Ответ: _____ м.

- 27** Определите по карте азимут от точки В на точку М. Ответ запишите в виде числа.

Ответ: _____ град.



Не забудьте перенести все ответы в бланк ответов № 1 в соответствии с инструкцией по выполнению работы. Проверьте, чтобы каждый ответ был записан в строке с номером соответствующего задания.

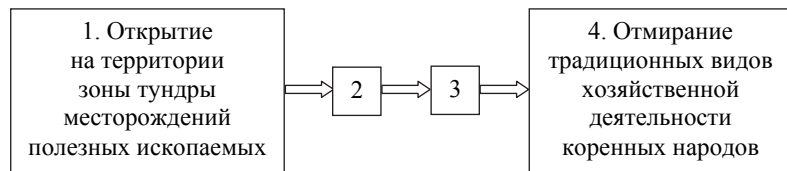
Часть 2

Для записи ответов на задания этой части (28–34) используйте БЛАНК ОТВЕТОВ № 2. Запишите сначала номер задания (28, 29 и т.д.), а затем развёрнутый ответ на него. Ответы записывайте чётко и разборчиво.

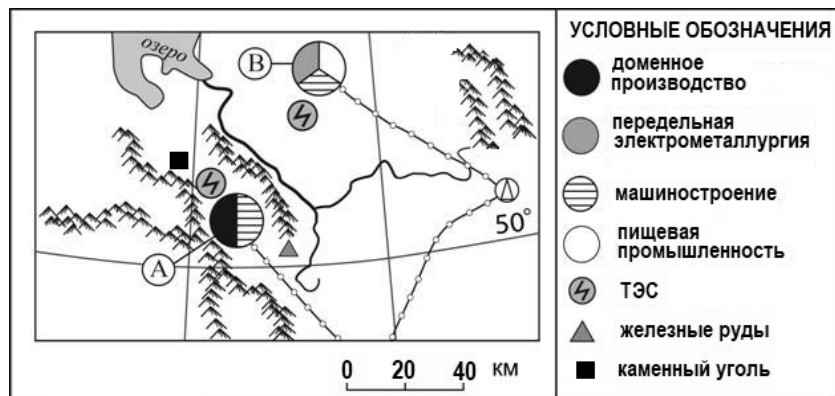
- 28** Постройте профиль рельефа местности по линии А – В. Для этого перенесите основу для построения профиля на бланк ответов № 2, используя горизонтальный масштаб – в 1 см 50 м и вертикальный масштаб – в 1 см 5 м. Укажите на профиле знаком «X» положение точки с высотой 158,0.



- 29** На территории природной зоны тундры были разведаны крупные месторождения различных полезных ископаемых. Это стало новым мощным стимулом к активному хозяйственному освоению этих территорий. В то же время возникли опасения, что это может негативно повлиять на традиционные виды хозяйственной деятельности коренных народов, населяющих эти территории. Назовите звенья цепочки связей между открытием на территории зоны тундры крупных месторождений полезных ископаемых и отмиранием традиционных видов хозяйственной деятельности коренных народов, обозначенные на схеме цифрами 2 и 3.



- 30 Определите, в каком из пунктов, обозначенных на фрагменте карты буквами А и В, наиболее вероятно сильное загрязнение воздушного бассейна. Для обоснования Вашего ответа приведите два довода.



- 31 Используя данные таблицы, приведённой ниже, сравните доли населения, занятого в сельском хозяйстве, и доли сельского хозяйства в общих объёмах ВВП Сербии и Литвы. Сделайте вывод о том, в какой из этих стран сельское хозяйство играло большую роль в экономике в 2012 г. Для обоснования Вашего ответа запишите необходимые числовые данные или вычисления.

Социально-экономические показатели развития Сербии и Литвы в 2012 г.

Страна	Численность населения, млн человек	Структура занятости населения, %			Общий объём ВВП, млрд долл.	Объём ВВП, созданный в сельском хозяйстве, млрд долл.
		Сельское хозяйство	Промышленность	Сфера услуг		
Сербия	7,1	24	16	60	79	6,3
Литва	3,2	8	20	72	65	2,4

- 32 Определите географическую долготу пункта, если известно, что в 14 часов 20 минут по солнечному времени Гринвичского меридиана местное солнечное время в нём 21 час. Запишите решение задачи.

Задания 33, 34 выполняются с использованием приведённой ниже таблицы.

Численность и естественный прирост населения Оренбургской области

Показатель	2014 г.	2015 г.	2016 г.
Численность постоянного населения на 1 января, человек	2 008 566	2 001 110	1 994 762
Среднегодовая численность населения, человек	2 004 838	1 997 936	1 992 175
Естественный прирост населения, человек, значение показателя за год	729	333	–196

- 33 Используя данные таблицы, определите показатель естественного прироста населения (в ‰) в 2015 г. для Оренбургской области. При расчётах используйте показатель среднегодовой численности населения. Запишите решение задачи. Полученный результат округлите до десятых долей промилле.

- 34 На численность населения субъектов Российской Федерации заметное влияние оказывают как естественное движение населения, так и миграции. Проанализировав данные таблицы, определите величину миграционного прироста (убыли) населения Оренбургской области в 2015 г. Запишите решение задачи.



Проверьте, чтобы каждый ответ был записан рядом с номером соответствующего задания.

